

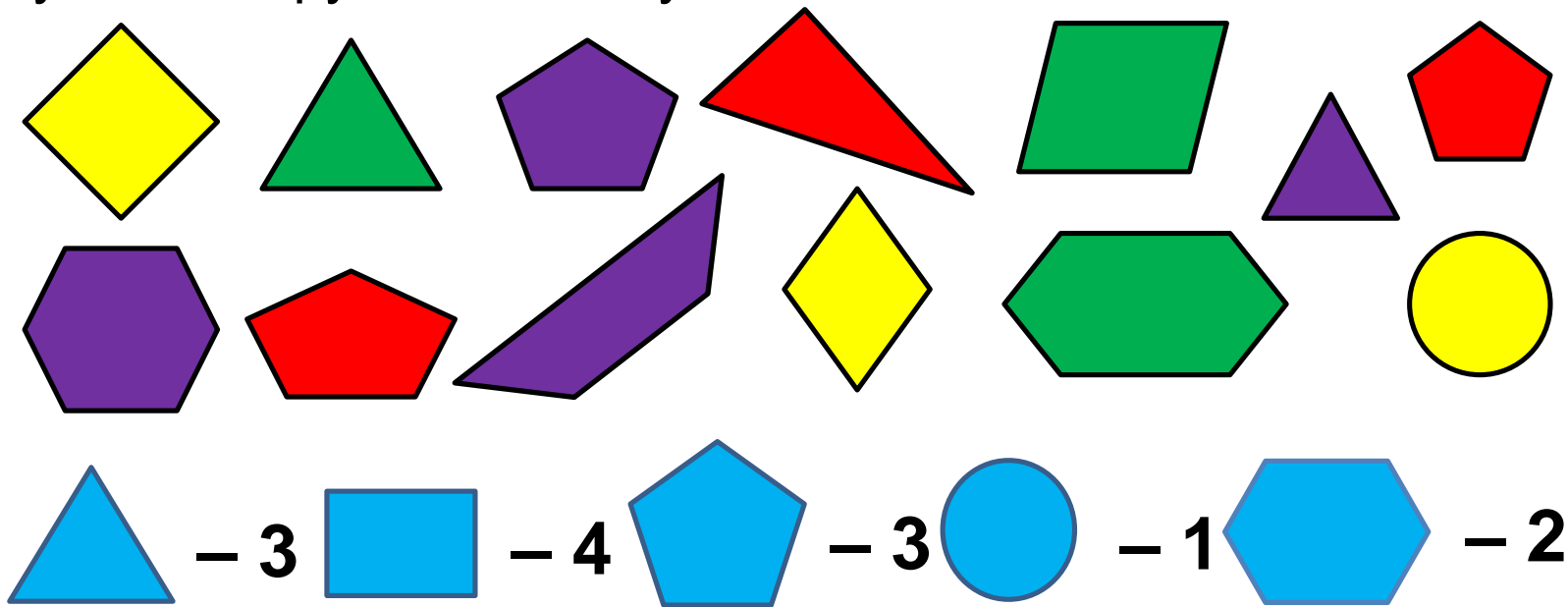
# Визначаємо кількість об'єктів

ВИДАВНИЦТВО  
**РАНОК**






Скільки на малюнку трикутників? чотирикутників?  
п'ятикутників? кругів? шестикутників?



**Останнє** з названих при лічбі **чисел** дає відповідь на запитання: «**Скільки об'єктів у групі?**».

Скільки гусенят плаває праворуч від гуски? ліворуч від гуски? Скільки всього гусенят? Скільки бабок над озером? Скільки всього жаб? Кому з цих тварин небезпечно бачитися?



Праворуч гусенят — 3

Ліворуч гусенят — 4


Усього — 7

Бабок — 6

Жаб — 5

Жабам та бабкам небезпечно бачити гусей, тому що гуси можуть їх з'їсти.  
Бабкам небезпечно зустрітися з жабами, бо жабка може ними пообідати.

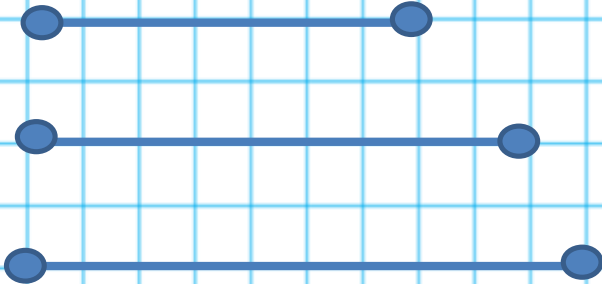
Полічи відрізки. Зафарбуй картку з відповідним числом блакитним олівцем. Наведи найдовший відрізок червоним олівцем, а найкоротший — зеленим.



- |   |   |   |   |   |   |   |   |   |    |
|---|---|---|---|---|---|---|---|---|----|
| 1 | 2 | 3 | 4 | 5 | 6 | 7 | 8 | 9 | 10 |
|---|---|---|---|---|---|---|---|---|----|

Зобрази стільки відрізків, скільки позначає число зліва,  
а променів — скільки позначає число справа.

**3**



**4**

